

# 1 学きのふくしゅう

## ① ひょうと グラフ

① 次のグラフは、すきなくだものの人数をあらわしたものです。下のもんだいに答えましょう。

すきな くだもの

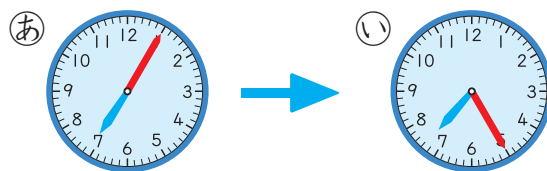
○				
○	○			
○	○			
○	○	○		
○	○	○	○	
○	○	○	○	○
○	○	○	○	○
○	○	○	○	○
メロン	すいか	もも	りんご	なし

- ① 人数が いちばん 多いくだものは <sup>なん</sup>何ですか。
- ② 人数が 5人の くだものは何ですか。

## ② 時こくと 時間 (1)

- ① □にあてはまる数を書きましょう。
- ① 1時間 = □分
- ② 1日 = □時間
- ③ 時計の長い はりは、5分間に □目もり すすみます。

② もんだいに 答えましょう。



- ① (a), (i)の時こくは何時何分ですか。
- ② (a)の時こくから、(i)の時こくまでの時間は何分間ですか。

## 4 たし算の ひっ算

1 つぎの ひっ算を しましょう。

①

	3	4
+	4	2

②

		6
+	8	1

2 ひっ算で しましょう。

①  $62 + 17$

②  $34 + 55$

③  $5 + 73$

④  $84 + 5$

3 赤い 花が 24 本, 白い 花が  
21 本 さいています。

ぜんぶで 何本 さいていますか。

4 ひっ算で しましょう。

①  $44 + 28$

②  $77 + 15$

③  $56 + 25$

④  $39 + 63$

⑤  $31 + 59$

⑥  $44 + 26$

⑦  $56 + 7$

⑧  $8 + 72$

5 45 円の ガムと 28 円の  
あめを 買いました。

合わせて 何円に なりますか。

6 公園で, 男の子が 18 人,  
女の子が 9 人 あそんでいます。

子どもは, ぜんぶで 何人  
いますか。

## 5 ひき算の ひっ算

1 つぎの ひっ算を しましょう。

①

	5	7
-	2	6

②

	8	9
-		5

2 ひっ算で しましょう。

①  $68 - 36$

②  $75 - 73$

③  $69 - 4$

④  $44 - 4$

3 はるみさんは、色紙を 36まいもっています。15まいつかうと、のこりは 何まいに なりますか。

4 ひっ算で しましょう。

①  $83 - 26$

②  $54 - 18$

③  $91 - 19$

④  $76 - 49$

⑤  $70 - 57$

⑥  $63 - 56$

⑦  $23 - 9$

⑧  $45 - 7$

5 カードを たかしさんは 35まい、ひろしさんは 42まいもっています。どちらが 何まい多くもっていますか。

6 つぎの ひき算の 答えの たしかめになる たし算の しきは、どれですか。

①  $67 - 26$

②  $53 - 18$

$45 + 18$

$41 + 26$

$41 + 67$

$35 + 18$

## 6 1000までの数

1 つぎの数を書きましょう。

① 600と40と5を  
合わせた数。

② 100を7こ、10を5こ、  
1を3こ合わせた数。

③ 百のくらいが9、  
十のくらいが0、一のくらいが  
4の数。

2 にあてはまる数を  
書きましょう。

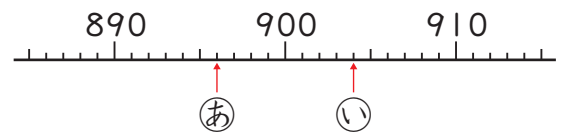
① 789  791 792

②  490 500 510

③ 800は、より200  
大きい数です。

④ 400は、700より小さい  
数です。

3 ↑のところの数を書きましょう。



4 にあてはまる数を  
書きましょう。

① 630は、10をこ  
あつめた数です。

② 10を80こあつめた数は、  
です。

5 にあてはまる >, <を  
書きましょう。

① 703  685

② 549  551

③ 973  977

## 7 大きい数の たし算とひき算

1 ひっ算でしましょう。

- ①  $73 + 53$
- ②  $87 + 26$
- ③  $49 + 91$
- ④  $64 + 38$
- ⑤  $200 + 500$
- ⑥  $863 + 7$
- ⑦  $326 + 59$
- ⑧  $545 + 47$

2 55円のみかんと75円の  
なしを 買います。  
ぜんぶで 何円に なりますか。

3 ひっ算でしましょう。

- ①  $136 - 83$
- ②  $159 - 69$
- ③  $134 - 95$
- ④  $167 - 88$
- ⑤  $105 - 27$
- ⑥  $100 - 56$

4 ひっ算でしましょう。

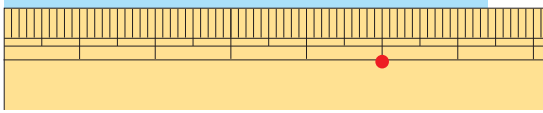
- ①  $900 - 400$
- ②  $531 - 6$
- ③  $450 - 8$
- ④  $681 - 23$
- ⑤  $272 - 64$
- ⑥  $890 - 72$

5 108ページの 本を,  
89ページまで 読みました。  
あと, 何ページ のこって  
いますか。

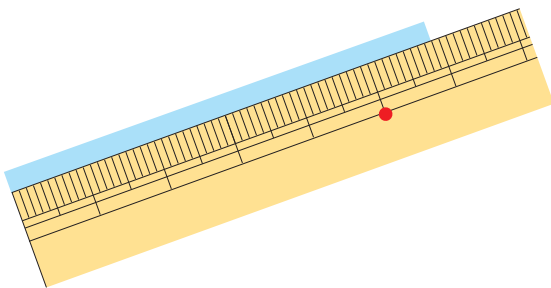
## 8 長さ (1)

1 つぎの テープの 長さは 何cm  
何mmですか。また, 何mmですか。

①



②



2 つぎの 長さの 直線を  
引きましょう。

① 4 cm 5 mm

② 78 mm

3  に あてはまる 数を  
書きましょう。

①  $6 \text{ cm} = \square \text{ mm}$

②  $7 \text{ cm } 4 \text{ mm} = \square \text{ mm}$

③  $59 \text{ mm} = \square \text{ cm } \square \text{ mm}$

4 計算を しましょう。

①  $26 \text{ cm} + 19 \text{ cm}$

②  $18 \text{ cm } 5 \text{ mm} + 6 \text{ cm}$

③  $31 \text{ cm} - 16 \text{ cm}$

④  $23 \text{ cm } 6 \text{ mm} - 9 \text{ cm}$