



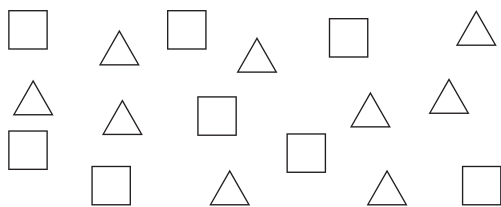
# 1 がっきのふくしゅう

## 1 10までのかず


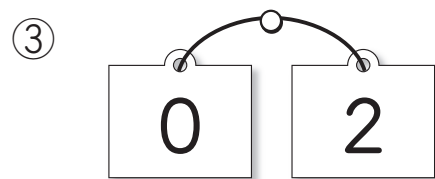


1 ●の かずを かきましょう。



2 □と △は、どちらがおおいですか。



3 どちらがおおいですか。





4 □に かずを

























かきましょう。



## 2 いくつと いくつ

1  や  に あう かずを

かきましょう。

①	<table border="1"><tr><td colspan="2">5</td></tr><tr><td></td><td>4</td></tr></table>	5			4	②	<table border="1"><tr><td colspan="2">6</td></tr><tr><td>3</td><td></td></tr></table>	6		3	
5											
	4										
6											
3											
③	<table border="1"><tr><td colspan="2">7</td></tr><tr><td>5</td><td></td></tr></table>	7		5		④	<table border="1"><tr><td colspan="2">7</td></tr><tr><td>3</td><td></td></tr></table>	7		3	
7											
5											
7											
3											
⑤	<table border="1"><tr><td colspan="2">8</td></tr><tr><td>3</td><td></td></tr></table>	8		3		⑥	<table border="1"><tr><td colspan="2">8</td></tr><tr><td></td><td>6</td></tr></table>	8			6
8											
3											
8											
	6										
⑦	<table border="1"><tr><td colspan="2">9</td></tr><tr><td></td><td>4</td></tr></table>	9			4	⑧	<table border="1"><tr><td colspan="2">9</td></tr><tr><td>6</td><td></td></tr></table>	9		6	
9											
	4										
9											
6											


2  に かずを


かきましょう。


- ① 5は 3と  。
- ② 6は 2と  。
- ③ 7は 6と  。
- ④ 8は 4と  。
- ⑤ 9は 2と  。
- ⑥ 9は 1と  。

3 おはじきが 10こ

あります。なんこ かくれて  
いますか。

① 

② 

③ 

## 3 あわせて いくつ ふえると いくつ

1 たしざんを しましょう。

- ①  $3 + 1$
- ②  $5 + 4$
- ③  $3 + 4$
- ④  $6 + 2$
- ⑤  $8 + 1$
- ⑥  $4 + 4$
- ⑦  $5 + 3$
- ⑧  $2 + 7$
- ⑨  $2 + 5$
- ⑩  $1 + 6$

2 あかい ふうせんが 6こ、  
きいろい ふうせんが 3こ  
あります。ふうせんは、  
あわせて なんこ ありますか。

3 はとが 4わ います。  
そこへ 3わ とんで  
きました。はとは、ぜんぶで  
なんわに なりましたか。

4 たしざんを しましょう。

- ①  $9 + 1$
- ②  $3 + 7$
- ③  $5 + 5$
- ④  $4 + 6$
- ⑤  $2 + 8$
- ⑥  $7 + 0$
- ⑦  $5 + 0$
- ⑧  $0 + 6$

5 おりがみを みきさんは  
6まい、いもうとは 4まい  
つかいました。おりがみを  
あわせて なんまい  
つかいましたか。

6 こたえが おなじに なる  
しきを、したの ㉔, ㉕, ㉖,  
㉗, ㉘の なかから  
えらびましょう。

- ①  $5 + 4$
- ②  $8 + 2$
- ③  $1 + 5$
- ④  $4 + 4$
- ⑤  $5 + 2$
- ㉔  $3 + 3$
- ㉕  $8 + 0$
- ㉖  $3 + 4$
- ㉗  $7 + 3$
- ㉘  $3 + 6$

## 4 のこりは いくつ ちがいは いくつ

1 ひきざんを しましょう。

- ①  $3 - 1$
- ②  $7 - 5$
- ③  $9 - 5$
- ④  $4 - 2$
- ⑤  $6 - 2$
- ⑥  $8 - 6$
- ⑦  $5 - 4$
- ⑧  $9 - 3$
- ⑨  $8 - 4$
- ⑩  $8 - 2$

2 いちごが 8こ あります。

5こ たべると、のこりは  
なんこに なりますか。

3 いろがみを 7まい  
もっています。3まい  
あげました。なんまい  
のこっていますか。

4 ひきざんを しましょう。

- ①  $10 - 3$
- ②  $10 - 5$
- ③  $10 - 2$
- ④  $10 - 1$
- ⑤  $10 - 8$
- ⑥  $10 - 6$
- ⑦  $9 - 9$
- ⑧  $7 - 0$

5 ほんを たかしさんは  
6さつ、ひろみさんは  
9さつ よみました。  
ひろみさんは、  
たかしさんより なんさつ  
おおく よみましたか。

6 こたえが おなじに なる  
しきを、したの ㉔, ㉕,  
㉖, ㉗の なかから  
えらびましょう。

①  $5-4$

②  $6-2$

③  $8-3$

④  $9-6$

㉔  $7-3$

㉕  $4-1$

㉖  $9-4$

㉗  $10-9$

## 5 なんばんめかな

1 みぎの ように、  
かずの かあどを  
ならべました。

4

1

6

5

2

3

① うえから  
3ばんめの  
かあどの かずは  
なんですか。

② 2の かあどは  
うえから  
なんばんめですか。

③ したから 3ばんめの  
かあどの かずは  
なんですか。

また、その かあどは、  
うえから  
なんばんめですか。