

# 1 学期の復習

## 1 かけ算

1 次の□にあてはまる数を書きましょう。

- ①  $6 \times 8 = \square \times 6$
- ②  $\square \times 7 = 7 \times 9$
- ③  $7 \times 8$ は、 $7 \times 7$ より□大きい。
- ④  $4 \times 5$ は、 $4 \times 6$ より□小さい。
- ⑤  $2 \times 9 = 2 \times 8 + \square$
- ⑥  $8 \times \square = 8 \times 4 + 8$
- ⑦  $4 \times 6 = 4 \times \square - 4$
- ⑧  $9 \times \square = 9 \times 8 - 9$

2 次の□にあてはまる数を書きましょう。

- ①  $7 \times 6$ 

|  |
|--|
| <math>\left\langle \begin{array}{l} 2 \times 6 = \square \\ \square \times 6 = \square \end{array} \right. |
| -----  |
| 合わせて□  |
  
- ②  $9 \times 8$ 

|  |
|--|
| <math>\left\langle \begin{array}{l} 9 \times 3 = \square \\ 9 \times \square = \square \end{array} \right. |
| -----  |
| 合わせて□  |

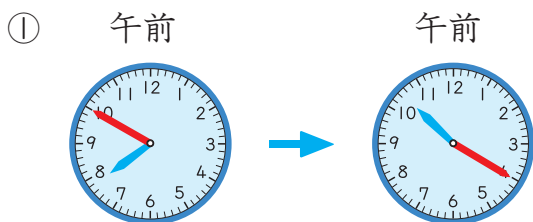
3 次の計算をしましょう。

- ①  $5 \times 0$
- ②  $0 \times 6$
- ③  $4 \times 10$
- ④  $10 \times 7$
- ⑤  $6 \times 3 \times 2$
- ⑥  $4 \times 2 \times 10$

4 1箱に6こずつ入ったボールの箱が10箱あります。  
ボールは、全部で何こありますか。

## 2 時こくと時間 (1)

1 次の時間をもとめましょう。



② 午前 8 時 30 分から午前 9 時 20 分までの時間。

③ 午後 3 時 40 分から午後 5 時 20 分までの時間。

2 次の時こくをもとめましょう。

① 午前 9 時 40 分から 50 分後の時こく。

② 午後 1 時 30 分の 2 時間 30 分後の時こく。

③ 午前 11 時 20 分から 30 分前の時こく。

④ 午後 6 時 15 分の 1 時間 30 分前の時こく。

## 3 わり算

1  $28 \div 4$  になる問題を作ります。

にあてはまる数やことばを書きましょう。

① あめが  こあります。  
同じ数ずつ  人に分けます。  
 は何こになりますか。

② あめが  こあります。  
1 人に  こずつ分けます。  
 に分けられますか。

2 次の  にあてはまる数をもとめましょう。

①  $2 \times \square = 16$     ②  $5 \times \square = 15$

③  $4 \times \square = 24$     ④  $7 \times \square = 56$

⑤  $\square \times 3 = 12$     ⑥  $\square \times 6 = 18$

⑦  $\square \times 8 = 32$     ⑧  $\square \times 9 = 63$

3 次のわり算の答えは、何のだんの九九を使ってもとめることができますか。また、答えをもとめましょう。

①  $9 \div 3$

②  $35 \div 5$

③  $36 \div 9$

④  $42 \div 7$

4 次のわり算をしましょう。

- ①  $8 \div 2$
- ②  $24 \div 8$
- ③  $24 \div 3$
- ④  $32 \div 4$
- ⑤  $45 \div 9$
- ⑥  $30 \div 6$

5 カードが 56 まいあります。

次の問題に答えましょう。

- ① 7人で同じ数ずつ分けると、  
1人分は何まいになりますか。
- ② 7まいずつふくろに入れると、  
ふくろはいくついらいますか。

6 牛にゆうが 36 dLあります。

1日に 6 dLずつ飲むと、  
何日間飲むことができますか。

7 次のわり算をしましょう。

- ①  $4 \div 4$
- ②  $9 \div 9$
- ③  $0 \div 8$
- ④  $0 \div 4$
- ⑤  $5 \div 1$
- ⑥  $7 \div 1$

## 4 あまりのあるわり算

1 次のわり算で答えが正しければ、

○を書きましょう。また、まちがって  
いれば、正しい答えを書きましょう。

①  $48 \div 7 = 6$  あまり 6

②  $26 \div 3 = 9$  あまり 1

③  $46 \div 8 = 6$  あまり 2

2 次のわり算をしましょう。

- ①  $24 \div 5$
- ②  $19 \div 2$
- ③  $43 \div 8$
- ④  $50 \div 6$
- ⑤  $62 \div 7$
- ⑥  $32 \div 9$

3 おはじきが60こあります。

次の問題に答えましょう。

① 1人に9こずつ配ります。  
何人に配ることができて、  
おはじきは何このこりますか。

② 7つの箱に同じ数ずつ入れます。  
1箱分は何こになって、  
おはじきは何こあまりますか。

4 38人が長いすにすわります。

1つの長いすには、5人すわることが  
できます。全員がすわるには、  
長いすはいくついらいますか。

5 おかしを箱に6こずつ入れます。

おかしは45こあります。おかしの  
入った箱は、何箱できますか。

## 5 たし算とひき算

1 次の□にあてはまる数を書きましょう。

|   |   |
|---|---|
| <p>①</p> $\begin{array}{r} 376 \\ + 148 \\ \hline \square \\ \downarrow \\ 376 \\ + 148 \\ \hline \square 4 \\ \downarrow \\ 376 \\ + 148 \\ \hline \square 24 \end{array}$ | <p>②</p> $\begin{array}{r} 835 \\ - 437 \\ \hline \square \\ \downarrow \\ 835 \\ - 437 \\ \hline \square 8 \\ \downarrow \\ 835 \\ - 437 \\ \hline \square 98 \end{array}$ |
|---|---|

2 次の計算を筆算でしましょう。

- ①  $234 + 564$
- ②  $381 + 447$
- ③  $473 + 349$
- ④  $698 + 82$
- ⑤  $3096 + 4518$
- ⑥  $2575 + 6625$

3 次の計算を筆算でしましょう。

- ①  $595 - 388$
- ②  $819 - 239$
- ③  $743 - 647$
- ④  $901 - 305$
- ⑤  $8196 - 2789$
- ⑥  $5060 - 3166$

4 次の計算をくふうしてしましょう。

- ①  $468 + 299$
- ②  $387 + 56 + 44$

5 公園に木を植えています。

これまでに、**374**本植えました。  
あと、**826**本のこっています。  
全部で何本植えますか。

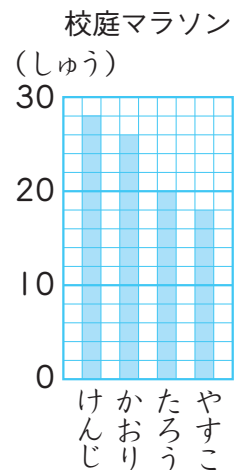
6 おり紙でつるを**260**羽おるのに、  
何羽かおったら、のこりが**115**羽に  
なりました。

これまでに、つるを何羽  
おりましたか。

## 6 表とグラフ

1 右のぼうグラフは、  
けんじさんたちが  
校庭マラソンで、  
何しゅう走ったかを  
表したものです。

次の問題に  
答えましょう



① グラフの1目もり分は  
何しゅうを表していますか。

② いちばん多く走ったのは  
だれですか。また、何しゅう  
走りましたか。

③ かおりさんは、何しゅう  
走りましたか。

④ たろうさんは、かおりさんより  
何しゅう少ないですか。

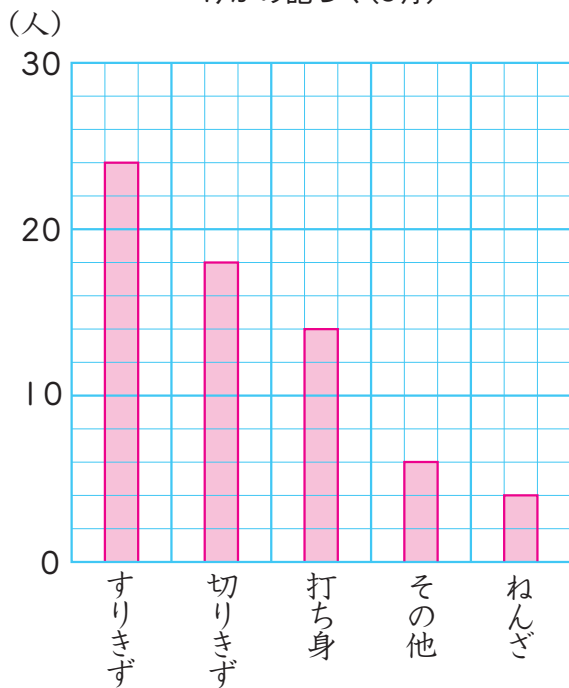
⑤ たろうさんは、やすこさんより  
何しゅう多いですか。

- 2 まさとさんの学校で、  
5月にけがをした人数をまとめた  
表を使い、ぼうグラフに表しました。  
下のぼうグラフのまちがいを  
見つけ、書きましょう。

けがの記ろく (5月) (人)

| すりきず | 切りきず | 打ち身 | ねんざ | その他 |
|------|------|-----|-----|-----|
| 24   | 18   | 14  | 4   | 6   |

けがの記ろく (5月)



- 3 次の表は、なおきさんの学校で、  
4月、5月、6月にけがをした人数を  
けがのしゅるいべつにまとめた  
ものです。

㊦～㊩にあてはまる数を  
もとめましょう。

けが調べ (人)

| しゅるい \ 月 | 4月 | 5月 | 6月 | 合計 |
|----------|----|----|----|----|
| すりきず     | 14 | ㊦  | 15 | 42 |
| 切りきず     | ㊧  | 9  | 11 | 30 |
| 打ち身      | 9  | 8  | ㊨  | ㊪  |
| その他      | 6  | 5  | 7  | 18 |
| 合計       | 39 | 35 | 41 | ㊫  |